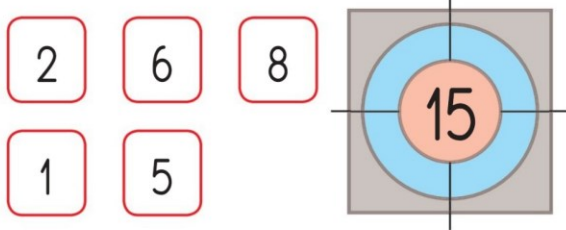


Je consolide mes connaissances

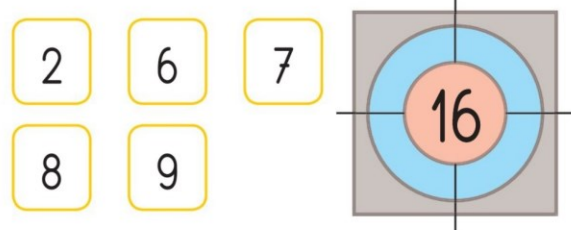
- 1 Écris deux sommes qui permettent d'atteindre le nombre cible.



.....

.....

- 2 Écris deux sommes qui permettent d'atteindre le nombre cible.



.....

.....

- 3 La boîte est pleine. Arthur, Zoé et Nestor doivent se partager tous les bonbons. Ils en auront le même nombre chacun.

Combien de bonbons chacun aura-t-il ?



Arthur : bonbons.

Zoé : bonbons.

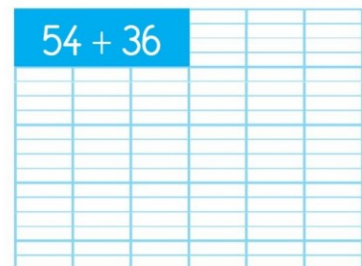
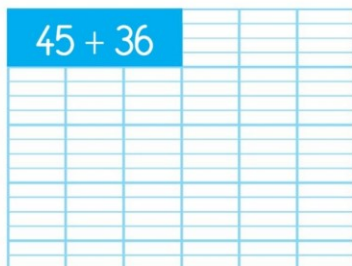
Nestor : bonbons.

- 4 Dans une petite école, il y a 24 garçons et 27 filles. Combien d'élèves y a-t-il dans cette école ?



Il y a élèves dans cette école.

- 5 Calcule.



- 6 Relie les mots avec des flèches pour obtenir le bon nombre.

